



**Επιτροπή Διαγωνισμού του περιοδικού «Ο μικρός Ευκλείδης»**  
**12<sup>ος</sup> Πανελλήνιος Μαθητικός Διαγωνισμός «Παιχνίδι και Μαθηματικά»**

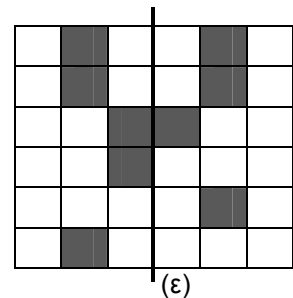
**9-3-2018**

**Για μαθητές της Στ΄ Τάξης Δημοτικού**

<b>Όνοματεπώνυμο:</b> .....	<b>Βαθμός</b>	
..... <b>Δημοτικό Σχολείο</b> .....	<b>Τάξη/Τμήμα</b>	

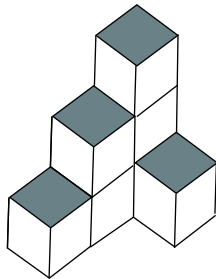
**ΘΕΜΑ 1<sup>ο</sup>**

Να χρωματίσεις τρία τετράγωνα, έτσι ώστε η ευθεία (ε) να είναι άξονας συμμετρίας του σχήματος.

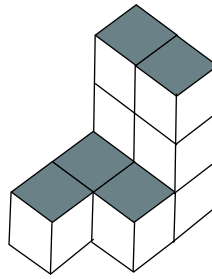


**ΘΕΜΑ 2<sup>ο</sup>**

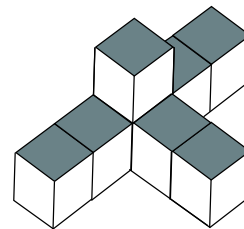
Να γράψεις από πόσους κύβους αποτελείται καθένα από τα παρακάτω γεωμετρικά στερεά:



... κύβοι



... κύβοι




... κύβοι

**ΘΕΜΑ 3<sup>ο</sup>**

Τρία αδέρφια, η Νίκη, ο Πάνος και η Μαρία, ξόδεψαν μία ημέρα στο κυλικείο του σχολείου 9 ευρώ. Ο Πάνος ξόδεψε ένα ευρώ περισσότερο από τη Νίκη. Η Μαρία ξόδεψε ένα ευρώ περισσότερο από τον Πάνο. Πόσα ευρώ ξόδεψε κάθε παιδί;

**Λύση**



**Απάντηση**

**ΘΕΜΑ 4<sup>ο</sup>**

Αντιστοιχίζω τους αριθμούς με τις διαφορές:

$$\boxed{0,375}$$

•  
•

$$\boxed{1-\frac{5}{8}}$$

$$\boxed{2,5}$$

•  
•

$$\boxed{3-2\frac{3}{4}}$$

$$\boxed{0,25}$$

•  
•

$$\boxed{9\frac{1}{4}-6\frac{3}{4}}$$

$$\boxed{3,75}$$

•  
•

$$\boxed{6-2\frac{1}{4}}$$

### ΘΕΜΑ 5°

Για την επίσκεψή τους σε ένα αθλητικό κέντρο, τα παιδιά της Στ' τάξης χρειάστηκαν δύο λεωφορεία. Για κάθε λεωφορείο πλήρωσαν 90 ευρώ. Η τιμή της εισόδου στο αθλητικό κέντρο ήταν 4 ευρώ για κάθε παιδί. Τα παιδιά πλήρωσαν συνολικά 472 ευρώ. Πόσα ήταν τα παιδιά της Στ' τάξης που επισκέφτηκαν το αθλητικό κέντρο;

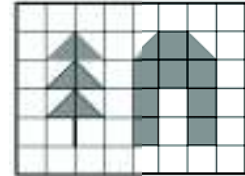


**Λύση**

**Απάντηση**

### ΘΕΜΑ 6°

Το διπλανό ορθογώνιο έχει περίμετρο 56 εκ. Να βρεις το εμβαδό του γραμμοσκιασμένου μέρους του ορθογωνίου.



**Λύση**

**Απάντηση**

### ΘΕΜΑ 7°

Τα παιδιά της Στ' τάξης συσκευάζουν τα βιβλία που θα δωρίσουν στη Δημοτική Βιβλιοθήκη. Τα βιβλία είναι λιγότερα από 300. Αν τα συσκευάσουν σε κουτιά των 24 ή των 36 βιβλίων, δεν περισσεύει κανένα. Αν τα συσκευάσουν σε κουτιά των 25 βιβλίων, περισσεύουν 16. Πόσα βιβλία θα δωρίσουν τα παιδιά της Στ' τάξης στη Δημοτική Βιβλιοθήκη;



**Λύση**

**Απάντηση**

### ΘΕΜΑ 8°

Η τραπεζαρία του σχολείου έχει ορθογώνια και τετράγωνα τραπέζια. Σε κάθε ορθογώνιο τραπέζι κάθονται 6 παιδιά και σε κάθε τετράγωνο 4. Σε πόσα ορθογώνια και σε πόσα τετράγωνα τραπέζια μπορούν να καθίσουν τα 48 παιδιά της Στ' τάξης, χωρίς να μείνει σε αυτά κανένα κάθισμα άδειο; Να γράψεις όλες τις περιπτώσεις.

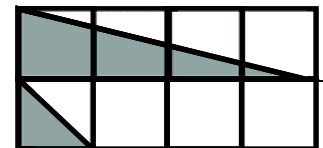


**Λύση**

**Απάντηση**

### ΘΕΜΑ 9°

Το διπλανό σχήμα είναι χωρισμένο σε 8 ίσα μέρη. Πόσο μέρος του διπλανού σχήματος είναι σκιασμένο;



**Λύση**

**Απάντηση**

### ΘΕΜΑ 10°

Ένας κουμπάρας έχει 18 κέρματα του ενός και των δύο ευρώ που το συνολικό βάρος τους είναι 143 γραμ. Κάθε κέρμα του ενός ευρώ ζυγίζει 7,5 γραμ. και των δύο ευρώ 8,5 γραμ. Ποια είναι η συνολική αξία των κερμάτων του κουμπάρα;



**Λύση**

**Απάντηση**

**ΚΑΛΗ ΕΠΙΤΥΧΙΑ**